



A Quelle est la légende de la fondation de Rome ?


Doc. 1 L'histoire de Romulus et Rémus




Romulus et Rémus ont été abandonnés sur les rives du et recueillis par une



Romulus est sur le, Rémus sur l'..... Ils observent les pour savoir qui fondera la ville.



Romulus et Rémus se battent : meurt.



Selon la légende, fonde la ville de Rome sur le en

1. Reconstituez la légende de la fondation de Rome en complétant les textes sous chaque dessin.

B Comment se présente la ville de Rome ?

2. Sur la carte, écrivez le nom du fleuve.
3. À quelle époque la ville est-elle représentée ?
4. Écrivez les noms des sept collines de Rome.
5. Sur quelle colline ont été retrouvées les plus anciennes traces d'habitat à Rome ?
6. Coloriez le Forum (la grande place de Rome) en rouge.
7. À quel dieu est dédié le temple du Capitole ?
8. Par quoi la ville est-elle protégée ?

Doc. 2 La ville de Rome au VI^e siècle avant J.-C.

